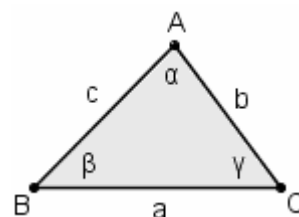


## 9. TEOREMI SUI TRIANGOLI RETTANGOLI

Adotteremo di preferenza, quando possibile, la **SIMBOLOGIA STANDARD** illustrata dalla figura qui a fianco:

- triangolo ABC,
- lati  $a, b, c$  ( $a$  opposto al vertice A, ecc.)
- angoli  $\alpha, \beta, \gamma$  ( $\alpha = \hat{A}$  ecc.)



**In un triangolo rettangolo, il SENO di un angolo acuto è uguale al rapporto fra il cateto opposto e l'ipotenusa**

$$\text{sen } \alpha = \frac{\text{cateto opposto}}{\text{ipotenusa}} = \frac{a}{c}$$

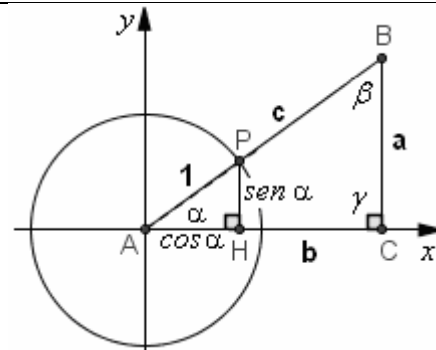
Dimostrazione

Nel piano su cui giace il triangolo rettangolo ABC, disegniamo un riferimento cartesiano di origine A, la cui semiassa delle ascisse positive coincida con la semiretta AC.

Su questo riferimento, disegniamo la circ. goniometrica, di raggio 1.

I due triangoli rettangoli ABC, APH sono simili, quindi possiamo scrivere la proporzione

$$HP : AP = CB : AB \quad \text{da cui} \quad \text{sen } \alpha : 1 = a : c \quad \frac{\text{sen } \alpha}{1} = \frac{a}{c} \quad \text{sen } \alpha = \frac{a}{c}, \quad \text{c.v.d.}$$



**CONSEGUENZA IMMEDIATA:**  $a = c \cdot \text{sen } \alpha$  cioè  $\text{cateto} = \text{ipotenusa} \cdot \text{seno dell'angolo opposto}$

**In un triangolo rettangolo, il COSENO di un angolo acuto è uguale al rapporto fra il cateto adiacente e l'ipotenusa**

$$\text{cos } \alpha = \frac{\text{cateto adiacente}}{\text{ipotenusa}} = \frac{b}{c}$$

La dimostrazione è analoga alla precedente: poiché i due triangoli rettangoli ABC, APH sono simili avremo

$$AH : AP = AC : AB \quad \text{da cui} \quad \text{cos } \alpha : 1 = b : c \quad \frac{\text{cos } \alpha}{1} = \frac{b}{c} \quad \text{cos } \alpha = \frac{b}{c}, \quad \text{c.v.d.}$$

**CONSEGUENZA IMMEDIATA:**  $b = c \cdot \text{cos } \alpha$  cioè  $\text{cateto} = \text{ipotenusa} \cdot \text{coseno dell'angolo adiacente}$

**In un triangolo rettangolo, la TANGENTE di un angolo acuto è uguale al rapporto fra il cateto opposto e il cateto adiacente**

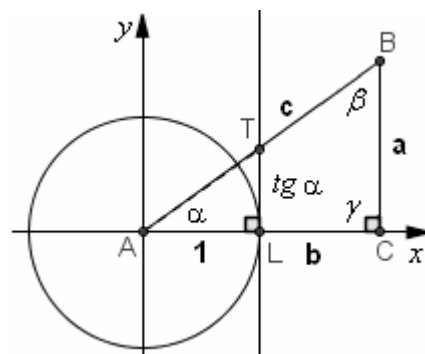
$$\text{tg } \alpha = \frac{\text{cateto opposto}}{\text{cateto adiacente}} = \frac{a}{b}$$

Dimostrazione

Questa volta sfruttiamo la similitudine fra ABC e ATL.

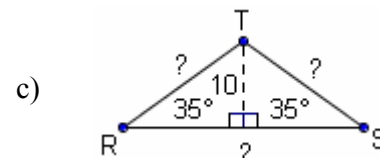
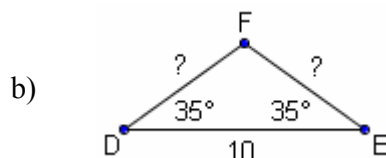
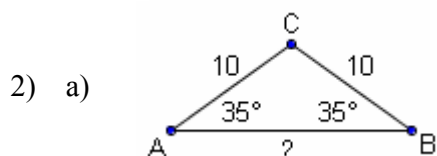
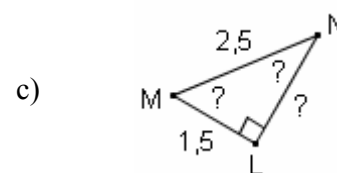
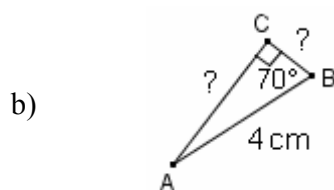
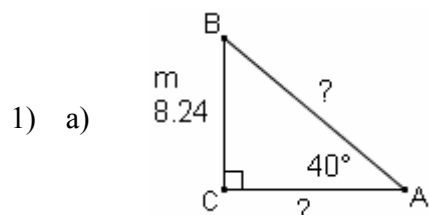
$$LT : AL = CB : AC \quad \text{quindi}$$

$$\text{tg } \alpha : 1 = a : b \quad \frac{\text{tg } \alpha}{1} = \frac{a}{b} \quad \text{tg } \alpha = \frac{a}{b}, \quad \text{c.v.d.}$$



**CONSEGUENZA IMMEDIATA:**  $a = b \cdot \text{tg } \alpha$  ;  $\text{cateto} = \text{altro cateto} \cdot \text{tangente dell'angolo opposto al primo}$

### ESERCIZI (risposte alla pag. seguente)



## 10. TEOREMI SUI TRIANGOLI QUALSIASI

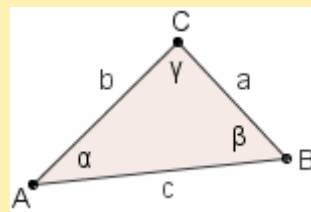
Si potrebbero dimostrare gli interessanti teoremi che seguono, validi per triangoli qualsiasi.

- Il **TEOREMA DEI SENI**:  
 “in un triangolo, è costante il rapporto fra  
 ciascun lato e il seno dell’angolo opposto”

$$\frac{a}{\sin \alpha} = \frac{b}{\sin \beta} = \frac{c}{\sin \gamma}$$

- e il **TEOREMA DEL COSENO**:  
 in ogni triangolo, valgono le relazioni  
 scritte nel riquadro qui a destra →

$$\begin{aligned} a^2 &= b^2 + c^2 - 2bc \cos \alpha \\ b^2 &= a^2 + c^2 - 2ac \cos \beta \\ c^2 &= a^2 + b^2 - 2ab \cos \gamma \end{aligned}$$



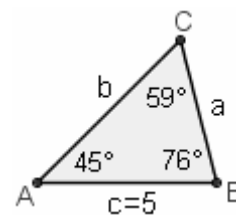
### ESERCIZI (risposte in fondo alla pagina)

- 3) Mediante il Teorema dei Seni,  
 determina gli elementi incogniti del triangolo qui a fianco raffigurato.

INDICAZIONE: Per ricavare  $b$ , si prenderà la formula  $\frac{b}{\sin \beta} = \frac{c}{\sin \gamma}$

che coinvolge  $b$  e il lato noto  $c$ ,

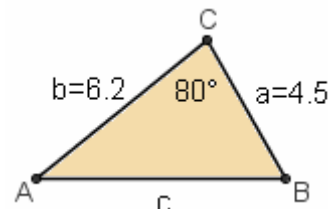
per risolverla rispetto a  $b$ :  $b = \frac{c}{\sin \gamma} \cdot \sin \beta$



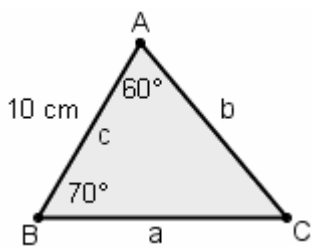
- 4) Serviti del Teorema del Coseno per trovare il 3° lato del triangolo in figura.  
 Successivamente, col T. dei Seni, determina le misure dei seni degli angoli  
 e infine risalisci al valore, approssimato ai gradi, degli angoli stessi.

INDICAZIONE:  $c = \sqrt{a^2 + b^2 - 2ab \cos \gamma} = \dots$  dopodiché:

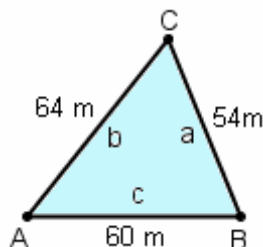
$$\frac{a}{\sin \alpha} = \frac{c}{\sin \gamma}; \quad \frac{\sin \alpha}{a} = \frac{\sin \gamma}{c}; \quad \sin \alpha = \dots, \text{ da cui il valore di } \alpha.$$



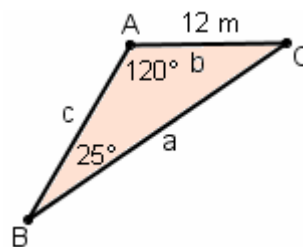
- 5) Applicando in modo opportuno i teoremi dei seni e del coseno,  
 “risolvi” i triangoli in figura,  
 ossia, a partire dai 3 elementi noti, determinane i tre elementi rimanenti.



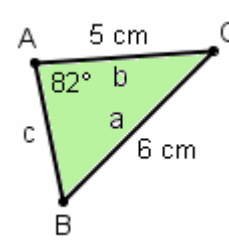
a)



b)



c)



d)

### RISPOSTE agli esercizi della pagina precedente e di questa

- 1) a)  $CA \approx 9.82 \text{ m}$ ,  $AB \approx 12.82 \text{ m}$   
 b)  $CA \approx 3.76 \text{ m}$ ,  $CB \approx 1.37 \text{ m}$   
 c)  $LN = \sqrt{2.5^2 - 1.5^2} = 2$ ;  $\hat{M} \approx 53^\circ 8'$ ,  $\hat{N} \approx 36^\circ 52'$
- 2) a)  $AB \approx 16.38$   
 b)  $DF = FE \approx 6.10$   
 c)  $RT = TS \approx 17.43$ ;  $RS \approx 28.56$
- 3)  $a \approx 4.1$ ,  $b \approx 5.7$
- 4)  $c \approx 7$ ,  $\alpha \approx 39^\circ$ ,  $\beta \approx 61^\circ$
- 5) a)  $50^\circ$ ,  $\approx 11.3$ ,  $\approx 12.3$   
 b)  $\approx 52^\circ$ ,  $\approx 68^\circ$ ,  $\approx 60^\circ$   
 c)  $35^\circ$ ,  $\approx 24.6$ ,  $\approx 16.3$   
 d)  $\approx 56^\circ$ ,  $\approx 42^\circ$ ,  $\approx 4.1$